

# जश्रे-तालीम, ML-ac एकलव्य, होशंगाबाद

कक्षा तीसरी के लिए गणित – लिखित (सितंबर 2020)



मेरा नाम -----कक्षा -----

पिता का नाम----- माता का नाम -----

शाला का नाम ----- आज की तारीख -----

1) हाथी गिनिए और लिखिए कुल कितने हाथी।



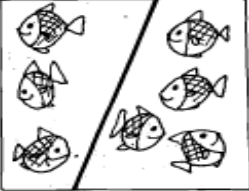
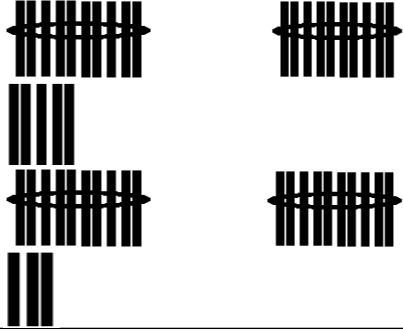
2) दस-दस हाथियों के समूह बनाइए, गोला लगाइए और लिखिए कितने गोले बने।

दस-दस हाथियों के कितने समूह	
-----------------------------	--

3)

$\begin{array}{r} 13 \\ + 5 \\ \hline \end{array}$	$\begin{array}{r} 0 \\ + 8 \\ \hline \end{array}$	$\begin{array}{r} 9 \\ - 7 \\ \hline \end{array}$	$\begin{array}{r} 13 \\ - 7 \\ \hline \end{array}$

4)

$\begin{array}{r} 37 \\ + 59 \\ \hline \end{array}$	$\begin{array}{r} 83 \\ - 36 \\ \hline \end{array}$		
		$3 + 4 =$	$25 + 23 =$

5) पैटर्न पूरा करो –



6) पैटर्न पूरा करो –



7) मौखिक सवाल हल करो। (जवाब, और तरीका हम लिखे। )

राहुल के पास 8 पेंसिलें हैं। सोनू के पास 7 पेंसिले हैं। उन दोनों के पास कितनी पेंसिलें हैं –  
 ... ..

8) एक तिकोन बनाओं –

एक चौकोर बनाओ –

एक गोला बनाओ –

बच्चों का नाम \_\_\_\_\_ पिता का नाम \_\_\_\_\_ ML-ac का नाम \_\_\_\_\_


**कक्षा तीन – गणित- मौखिक (सितंबर 2020)** तारीख \_\_\_\_\_

9) संख्या पढ़ो – तीली उठाकर दो। एक कम कितना, बताओ।				
संख्या	बच्चे का जवाब			
	संख्या पढ़ी	तीली उठाकर दी	1 कम कितना	सही बताया
18				
13				

प्रश्न – 10 संख्या कार्ड को छोटे से बड़े क्रम में जमाना।	
संख्या कार्ड देखर	बच्चों के द्वारा लगाया गया क्रम और तरीका
24, 1, 8, 15	

प्रश्न – 11 इबारती सवाल हल करना	
सवाल पढ़कर बच्चों को सुनाए –	बच्चों द्वारा दिया गया जवाब और हल करने का तरीका
सोहन की माता जी बाजार से 9 केले लाईं। उन्होंने 4 केले सोहन को दे दिए। माताजी के पास कितने केले बचे?	

प्रश्न – 12 रूपए की समझ सवाल	बच्चों द्वारा दिए गए नोट – और उनकी संख्या लिखे
25 रूपए दो।	

प्रश्न – 13 पेंसिल में सबसे छोटी पेंसिल बताओ। सबसे बड़ी पेंसिल बताओ।			
			
24	1	8	15

